

## **PASSEIO PELOS GRÁFICOS**

(ADAPTADO PELO ACADÊMICO VITOR MANOEL SCHMITZ DE MARCO)

Para este jogo, recorte 30 fichas iguais, usando cartolina da mesma cor. Em cada ficha copie uma pergunta e sua respectiva pontuação. A seguir, você encontrará 30 perguntas referentes aos gráficos que estão no tabuleiro do jogo.

**Número de participantes:** 4 a 6

**Material:** Tabuleiro, 30 fichas com perguntas, tampas de pasta dental com cores diferentes para serem utilizadas como peões.

**Regras:** Cada participante, na sua vez, sorteia uma ficha. A seguir, responde a pergunta. Se o participante acertar a resposta, movimenta o peão tantas casas quantos forem os pontos indicados na ficha, a partir da Saída. Caso o participante erre, não movimenta o peão. Ganha o jogo quem primeiro alcançar a chegada. Para o jogo ficar mais interessante, estabeleça tempo máximo para cada resposta.





GRÁFICO 1

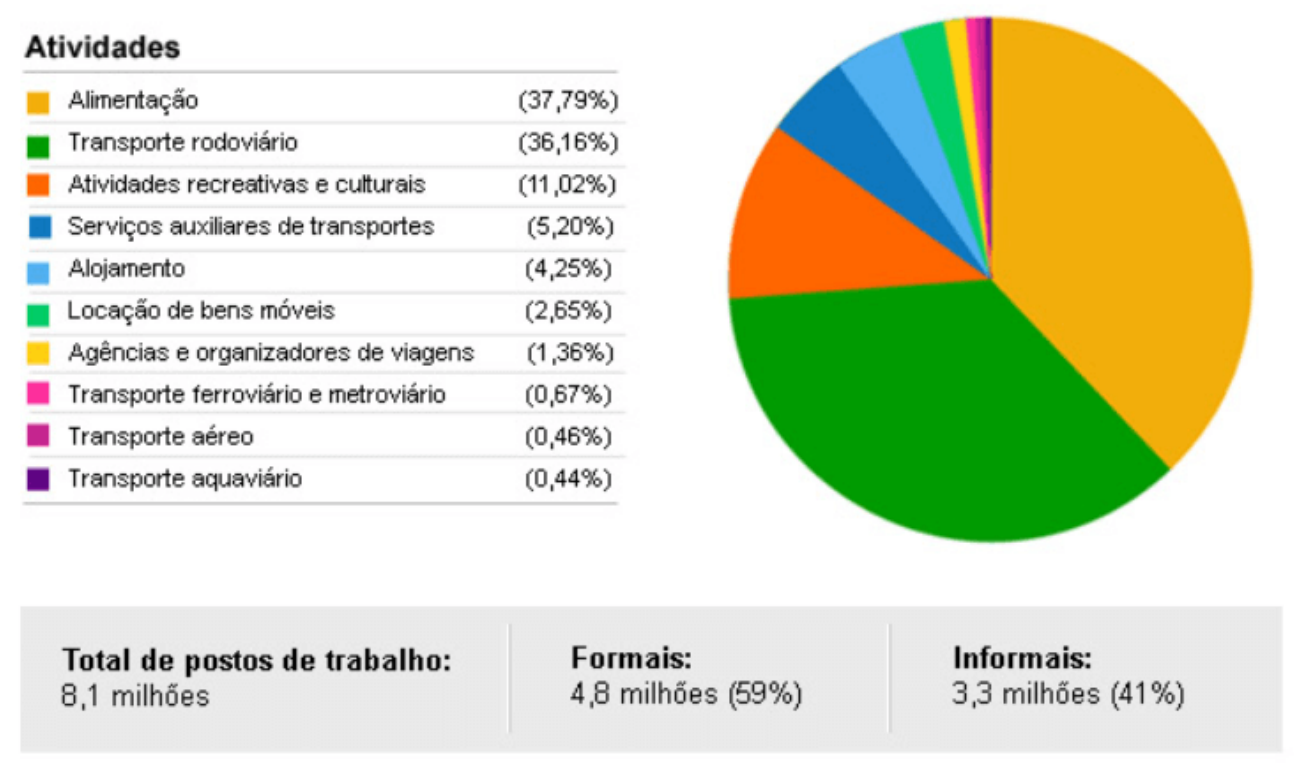


GRÁFICO 2

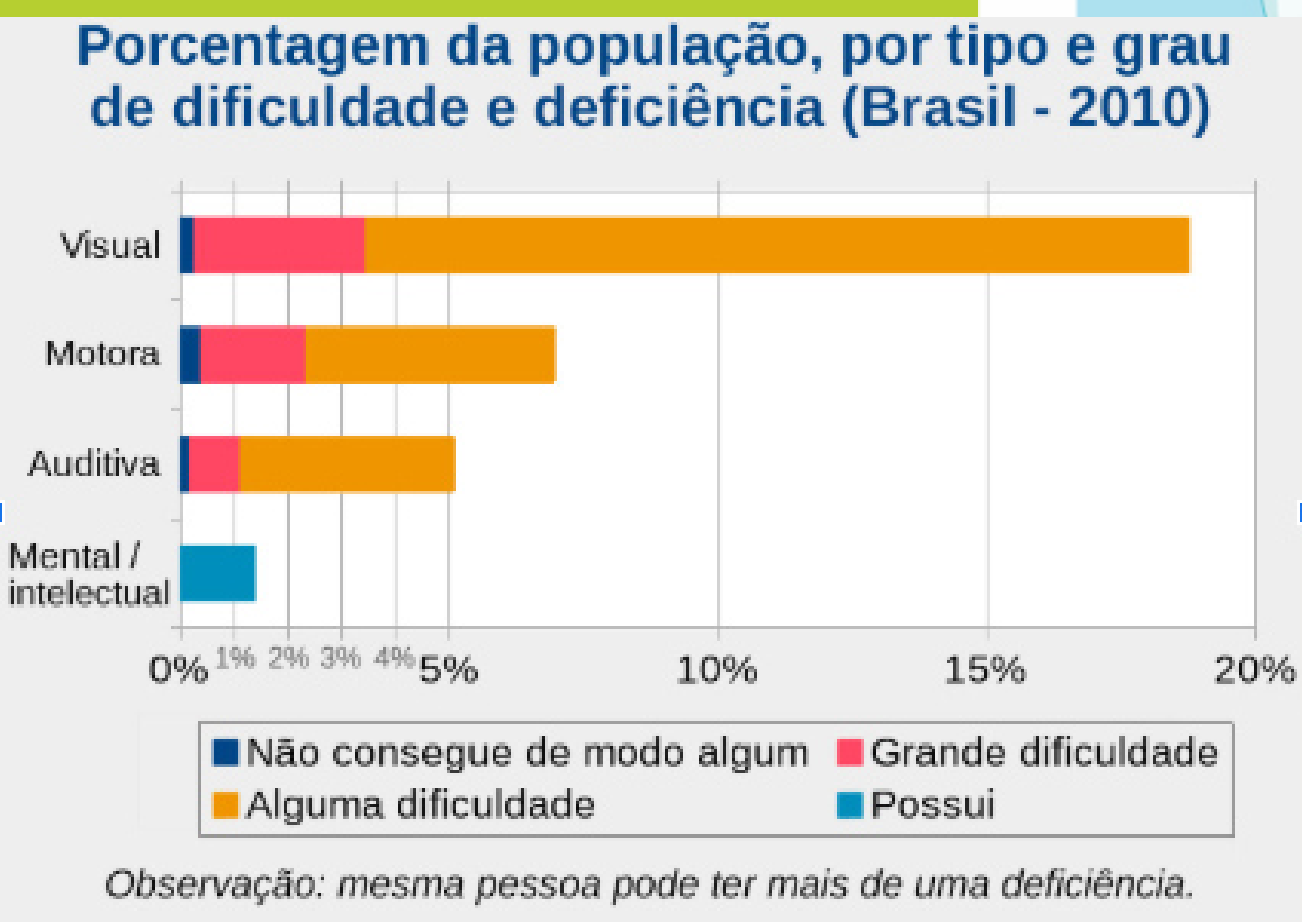


GRÁFICO 3



GRÁFICO 4

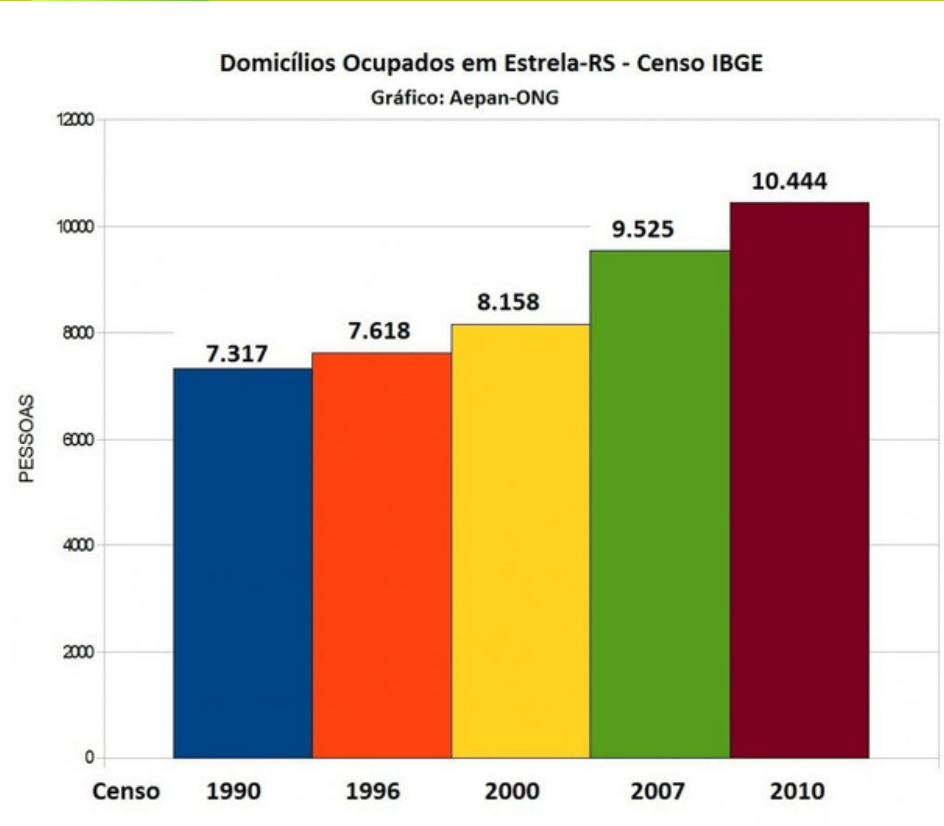


GRÁFICO 5

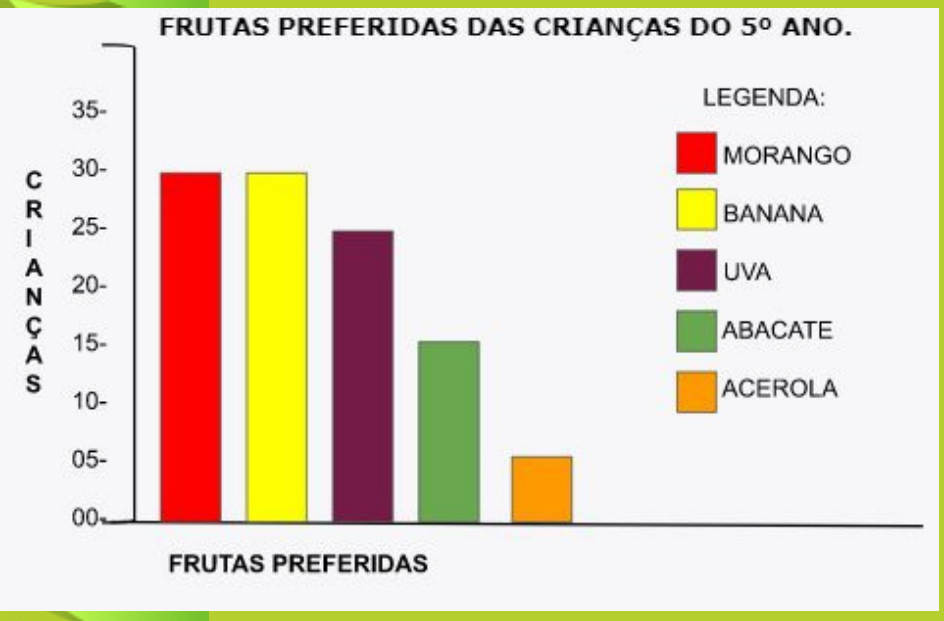


GRÁFICO 6



<b>2 pontos.</b> Qual mês que teve menos gasto de energia dos últimos 7 meses?	<b>4 pontos.</b> Qual a quantidade de pessoas que trabalham no turismo e é relacionada a Alimentação?	<b>5 pontos.</b> Qual a Amplitude dos gastos de Energia dos últimos 7 meses?	<b>5 pontos.</b> Qual ano teve o maio aumento de domicílios ocupados em Estrela-RS
<b>3 pontos.</b> Qual o total de crianças do 5º que responderam a pesquisa sobre a fruta preferida?	<b>1 ponto.</b> Qual a maior dificuldade e deficiência da população brasileira?	<b>2 pontos.</b> Qual mês teve o menor consumo de energia no Brasil?	<b>3 pontos.</b> Qual a porcentagem de trabalhos no turismo relacionado a transportes?
<b>5 pontos.</b> Qual mês vendeu mais produtos no Rio de Janeiro em 2021?	<b>4 pontos.</b> Qual o aumento total de domicílio ocupados em Estrela-RS?	<b>1 ponto.</b> Qual a porcentagem de pessoas do brasil tem alguma dificuldade com a audição?	<b>1 ponto.</b> Qual a porcentagem de pessoas do brasil tem grande dificuldade com a audição?
<b>1 ponto.</b> Qual o maio consumo de energia no Brasil?	<b>3 pontos.</b> Qual produto vendido no Rio de Janeiro teve menos venda em 2021?	<b>1 ponto.</b> Qual a porcentagem de serviços relacionados a alojamento?	<b>1 ponto.</b> Qual ano teve a maior ocupação de domicílios no Brasil?
<b>6 pontos.</b> Qual a porcentagem total de pessoas com algum grau de dificuldade relacionadas a visão?	<b>6 pontos.</b> Qual a porcentagem total de pessoas com algum grau de dificuldade relacionadas a audição?	<b>4 pontos.</b> Qual foi o consumo total de energia no Brasil nos últimos 7 meses?	<b>5 pontos.</b> Quantos produtos foram vendidos no mês de janeiro no Rio de Janeiro?
<b>2 pontos.</b> Qual a diferença das crianças que gostam de morango e banana?	<b>3 pontos.</b> Quantas crianças gostam de abacate e acerola?	<b>1 ponto.</b> Quantas crianças gostam de uva?	<b>4 pontos.</b> Qual o consumo de energia nos meses de agosto e julho no Brasil?
<b>3 pontos.</b> Qual emprega mais, serviços relacionados a alimentação ou transporte?	<b>6 pontos.</b> Qual a porcentagem total de pessoas com algum grau de dificuldade motora?	<b>4 pontos.</b> Quantos empregos relacionados ao turismo é informal?	<b>4 pontos.</b> Quantos empregos relacionados ao turismo é formal?
<b>2 pontos.</b> Qual mês teve mais vendas no Rio de Janeiro em 2021?	<b>2 pontos.</b> Qual é a porcentagem de atividades relacionas a alojamento?		